



いろいろなふね (1)

なまえ


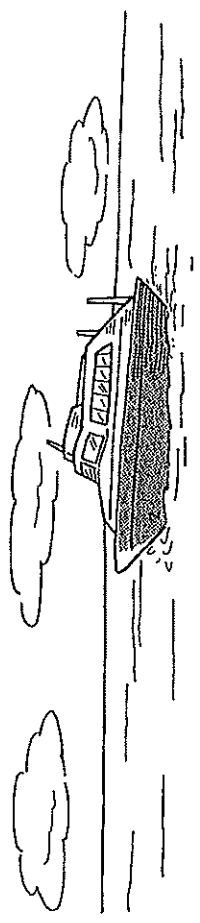
--

ふねには いろいろ
な もの が あり
ます。

ちやくせんは た
くせんの人をは
いら ための ふね
です。

この ふねの 中
には ちやくしつや
じやくしつが あり
ます。

人は ちやくしつ
で ずんたい
じやくしつで じよ
くじを したり し
ます。



上の ふねを よんで ください。

(1) ちやくせんは なにをする
ための ふねですか。 (20)

()

(2) ちやくせんの中にある もの
を 一つ かきかいて。 (20)

()

(3) この ふねで 人は な
にを しますか。

① ちやくしつ (20)

()

② じやくしつ

()



いろいろなふね (1)

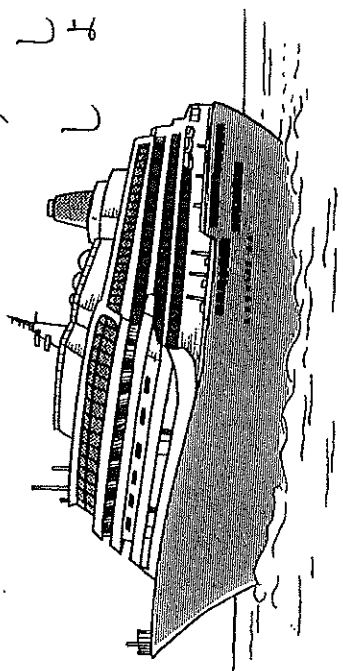
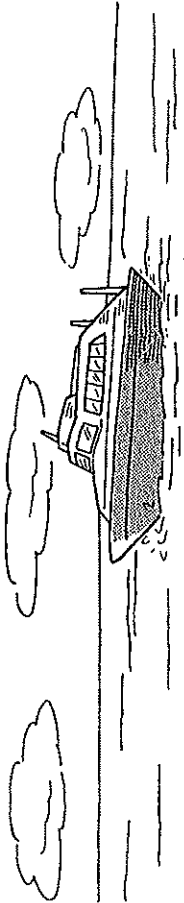
なまえ

ふねには、いろ
んなものがあり
ます。

おやくせんは、た
くさんの人をは
こぶためのふね
です。

このふねの中
には、おやくしつや
しょくどうがあり
ます。

人は、おやくしつ
でやすんだり、
しょくどうでしょ
くじをしたりし
ます。



上のふねをよんで、たてかきましょう。

(1) おやくせんは、なにをする
ためのふねですか。

20

(たくさんの人を
はこぶため。)

(2) おやくせんの中にあるもの
を二つをかきましょう。

20x3

(おやくしつ
)

(しょくどう
)

(3) このふねで、人はなに
をしていますか。

① おやくしつ

20x3

(やすむ。
)

② しょくじ

(しょくじ
)

1年生の学しゅう 2月13日(土)

① うぐいすが 11わ ないています。3わ どこかへ とんで
いきました。うぐいすは なんわ のこっていますか。
しき


② どんぐりと くりが あわせて 14こ あります。そのうち
どんぐりは 8こです。くりは なんこですか。
しき

③ あんぱんを 12こ、めろんぱんを 9こ かいしました。
どちらを なんこ おおく かいしましたか。
しき



④ れいぞうこに じゅうすが 6ぼん ありました。また 6ぼん
かってきました。ぜんがで じゅうすは なんぼんに なりました
か。
しき

⑤ せみが 8ひき きにとまっています。そこへ 5ひき
とんできました。せみは なんびきに なりましたか。
しき



なまえ

① たまねぎを 7こ、じゃがいもを 13こ かいしました。
どちらが なんこ おおいでしょう。
しき

② ほんの うと あわせて 15さつ かいしました。そのうち
ほんは 6さつです。のうとは なんさつですか。
しき



③ かごに みかんが 7こは いていました。そこへ 3こ
みかんを いました。かごの みかんは なんこに なりま
したか。
しき

④ 5りよの でんしゃと、7りよの でんしゃを つなぎました。
なんりよの でんしゃに なりましたか。
しき

⑤ あいさんは やどかりを 9ひき とりました。みきさんは
8ひき とりました。ふたり あわせて なんひき とりましたか。
しき



1年生の学しゅう 2月13日(土)

① うぐいすが 11わ ないています。3わ どこかへ とんで
いきました。うぐいすは なんわ のこっていますか。

しき $11 - 3 = 8$

8わ

② どんぐりと くりが あわせて 14こ あります。そのうち
どんぐりは 8こです。くりは なんこですか。

しき $14 - 8 = 6$

6こ

③ あんぱんを 12こ、めろんぱんを 9こ かいました。
どちらを なんこ おおく かいましたか。

しき $12 - 9 = 3$

あんぱんが 3こ おおい

④ れいぞうこに じゅうずが 6ぼん ありました。また 6ぼん
かってきました。ぜんぶで じゅうずは なんぼんに なりました
か。

しき $6 + 6 = 12$

12ぼん

⑤ せみが 8ひき きにとまっています。そこへ 5ひき
とんできました。せみは なんびきに なりましたか。

しき $8 + 5 = 13$



13びき

なまえ

① たまねぎを 7こ、じゃがいもを 13こ かいました。
どちらが なんこ おおいでしょう。

しき $13 - 7 = 6$

じゃがいもが 6こ おおい

② ほんと のうと あわせて 15さつ かいました。そのうち
ほんは 6さつです。のうとは なんさつですか。

しき $15 - 6 = 9$



9さつ

③ かごに みかんが 7こ はいっていました。そこへ 3こ
みかんを いました。かごの みかんは なんこに なりま
したか。

しき $7 + 3 = 10$

10こ

④ 5りょうの でんしゃと、7りょうの でんしゃを つなぎました。
なんりょうの でんしゃに なりましたか。

しき $5 + 7 = 12$

12りょう

⑤ あいさんは やどかりを 9ひき とりました。みぎさんは
8ひき とりました。ふたり あわせて なんひき とりましたか。

しき $9 + 8 = 17$



17ひき