


名前

クロスワードパズルだよ！全部書けたら、㉖～㉚の文字を順にならべて、言葉を作ってね。

ヒント：冬のお楽しみ

答え



- ㉖の答え
- ① 手で動かす事。
  - ② ゾウやライオンがいる。
  - ③ 春夏秋冬。
  - ④ ○○の変わり目はかぜを引きやすい。
  - ⑤ お正月にもらう。
  - ⑥ 豆をまいて、オニを追いはらう。
  - ⑦ 角度をはかる道具。
  - ⑧ 雨の○○は中止です。
  - ⑨ ジェットコースターに乗りたいたい。
  - ⑩ 私たちの住む星。
  - ⑪ 赤と白どっちが多く入ったかな？
  - ⑫ 本がたくさんある部屋。
  - ⑬ 出来事を絵と文で書こう。
  - ⑭ その年、初めてふる雪。
  - ⑮ 本がたくさんある部屋。
  - ⑯ 一月一日から。
  - ⑰ 実験や観察をする科目。
  - ⑱ 学校は文、ゆう便局は㉗。
  - ⑲ お正月に書く習字。
  - ㉒ 部屋の中の事。
  - ㉓ 戦争の後。
  - ㉔ 雨の○○は中止です。
  - ㉕ 出来事を絵と文で書こう。
  - ㉖ その年、初めてふる雪。

名前

クロスワードパズルだよ！全部書けたら、㊶～㊷の文字を順にならべて、言葉を作ってね。

ヒント：冬のお楽しみ

答え 雪合戦

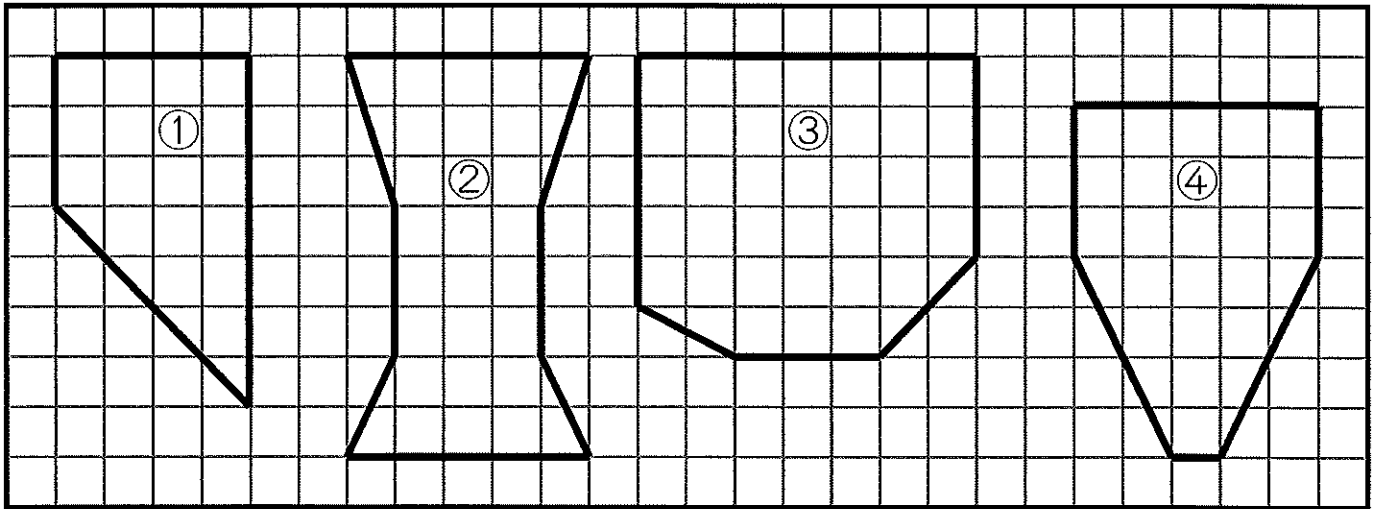
① 手	② 動		③ 四	④ 季				⑤ お	祝	い
	物			⑥ 節	⑦ 分		⑧ 新	年		
⑨ 遊	園	⑩ 地			度			⑪ 玉	⑫ 入	れ
		⑬ 球	⑭ 場		器		⑮ 絵		学	
	⑯ 教		合				日		式	
⑰ 理	科				⑱ 地	⑲ 図	記	号		
	⑳ 書	き	㉑ 初	め		書				㉒ 午
			㉓ 雪			㉔ 室	内		㉕ 戦	㉖ 後

- タテのかぎ
- ① 手で動かす事。
  - ② ゾウやライオンがいる。
  - ③ 春夏秋冬。
  - ④ ○○の変わり目はかぜを引きやすい。
  - ⑤ お正月にもらう。
  - ⑥ 豆をまいて、オニを追いはらう。
  - ⑦ 角度をはかる道具。
  - ⑧ 一月一日から。
  - ⑨ 赤と白どっちが多く入ったかな？
  - ⑩ 私たちの住む星。
  - ⑪ 本がたくさんある部屋。
  - ⑫ 新一年生を、むかえる式。
  - ⑬ 出来事を絵と文で書こう。
  - ⑭ その年、初めてふる雪。
  - ⑮ 雨が○○は中止です。
  - ⑯ 本がたくさんある部屋。
  - ⑰ 出来事を絵と文で書こう。
  - ⑱ 本がたくさんある部屋。
  - ⑲ 本がたくさんある部屋。
  - ⑳ お正月に書く習字。
  - ㉑ 赤と白どっちが多く入ったかな？
  - ㉒ 午後。
  - ㉓ 雪。
  - ㉔ 室内。
  - ㉕ 戦争の後。
  - ㉖ 午後。
- ヨコのかぎ
- ① 手で動かす事。
  - ② ゾウやライオンがいる。
  - ③ 春夏秋冬。
  - ④ ○○の変わり目はかぜを引きやすい。
  - ⑤ お正月にもらう。
  - ⑥ 豆をまいて、オニを追いはらう。
  - ⑦ 角度をはかる道具。
  - ⑧ 一月一日から。
  - ⑨ ジェットコースターに乗りたくない。
  - ⑩ 私たちの住む星。
  - ⑪ 本がたくさんある部屋。
  - ⑫ 新一年生を、むかえる式。
  - ⑬ 出来事を絵と文で書こう。
  - ⑭ その年、初めてふる雪。
  - ⑮ 雨が○○は中止です。
  - ⑯ 本がたくさんある部屋。
  - ⑰ 出来事を絵と文で書こう。
  - ⑱ 本がたくさんある部屋。
  - ⑲ 本がたくさんある部屋。
  - ⑳ お正月に書く習字。
  - ㉑ 赤と白どっちが多く入ったかな？
  - ㉒ 午後。
  - ㉓ 雪。
  - ㉔ 室内。
  - ㉕ 戦争の後。
  - ㉖ 午後。

面積 (5)

名前 \_\_\_\_\_

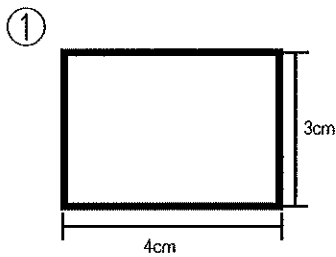
☆ 次の図形を面積の広い順に答えましょう。



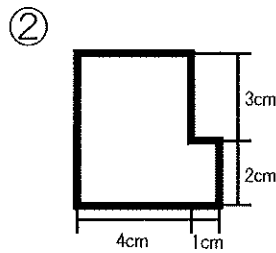
1番広いもの    2番目    3番目    4番目

答え \_\_\_\_\_

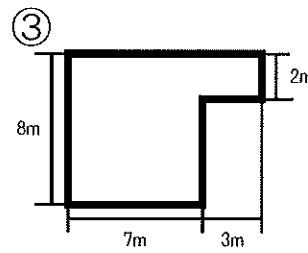
☆ 次の図形の面積を答えましょう。



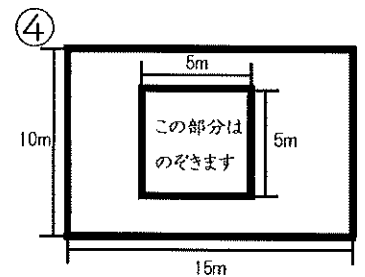
式 \_\_\_\_\_



式 \_\_\_\_\_



式 \_\_\_\_\_



式 \_\_\_\_\_

答え① \_\_\_\_\_

答え② \_\_\_\_\_

答え③ \_\_\_\_\_

答え④ \_\_\_\_\_

☆ \_\_\_\_\_ にあてはまる単位を書きましょう。

一辺の長さが1cmの正方形の面積は、1 \_\_\_\_\_ です。

一辺の長さが1mの正方形の面積は、1 \_\_\_\_\_ です。

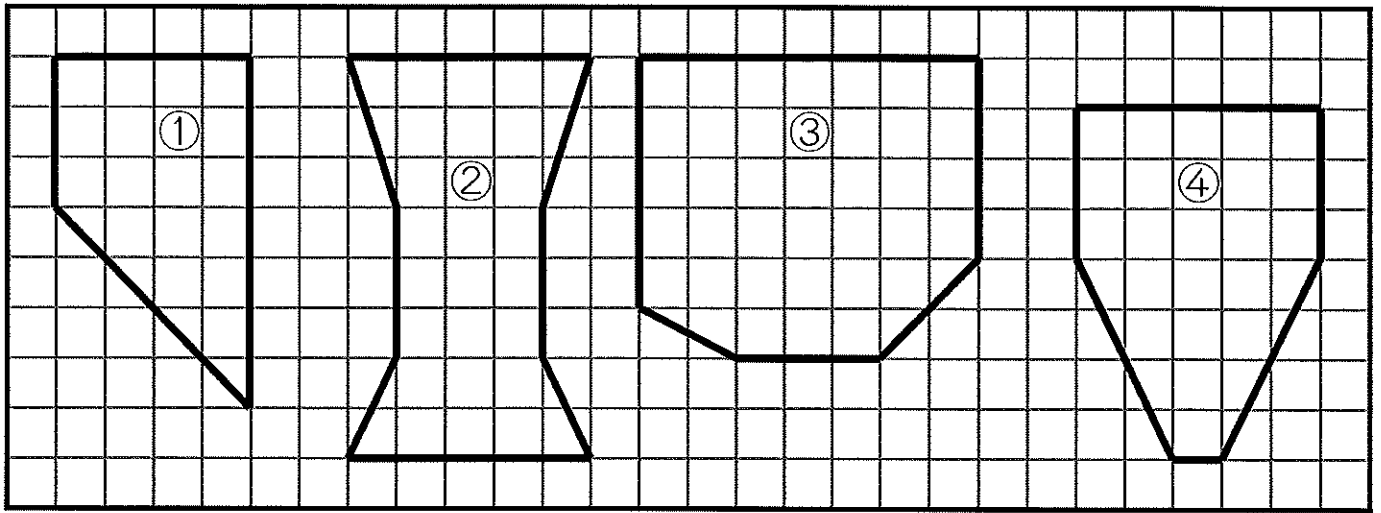
一辺の長さが10mの正方形の面積は、1 \_\_\_\_\_ です。

一辺の長さが100mの正方形の面積は、1 \_\_\_\_\_ です。

面積 (5)

名前 \_\_\_\_\_

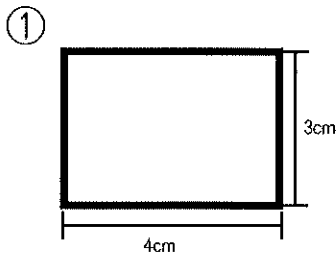
☆ 次の図形を面積の広い順に答えましょう。



1番広いもの    2番目    3番目    4番目

答え ③                      ②                      ④                      ①

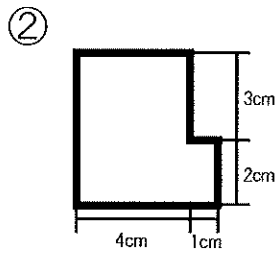
☆ 次の図形の面積を答えましょう。



式

$$3 \times 4 = 12$$

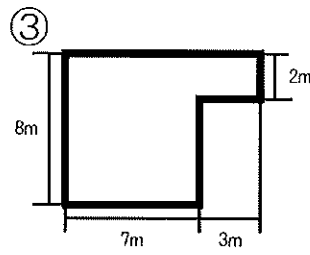
答え①  $12\text{cm}^2$



式

$$\begin{aligned} (3+2) \times 4 &= 20 \\ 20 + 2 \times 1 &= 22 \end{aligned}$$

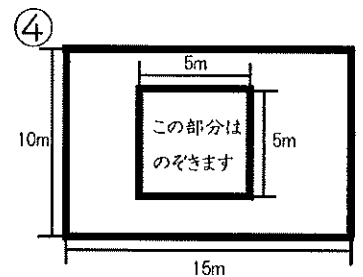
答え②  $22\text{cm}^2$



式

$$8 \times 7 + 2 \times 3 = 62$$

答え③  $62\text{m}^2$



式

$$10 \times 15 - 5 \times 5 = 125$$

答え④  $125\text{m}^2$

☆ \_\_\_\_\_ にあてはまる単位を書きましょう。

一辺の長さが1cmの正方形の面積は、1 cm<sup>2</sup> です。

一辺の長さが1mの正方形の面積は、1 m<sup>2</sup> です。

一辺の長さが10mの正方形の面積は、1 a です。

一辺の長さが100mの正方形の面積は、1 ha です。